


Skattejagt 4

Sværhedsgrad: let Nr. 0817-002



Løs de fire opgaver og find det rigtige stjerne-bogstav for hver opgave. Sæt de fire stjernebogstaver sammen til det hemmelige skattejagtsord!


Optælling

Hvilken af disse ting er der flest af rundt på skattejagten?


 ★ V


 ★ R


 ★ D



Koordinater

Hvilken kanon rammer flest skibe?

| | A | B | C | D |
|---|--|---|--|---|
| 1 | | | |  |
| 2 |  | |  | |
| 3 | | | |  |

Quiz




Hvilken er ikke en skibstype?

Porter
★ T

Brig
★ G

Skonnert
★ Y



Rammer:
 A3
 C2
 C1
 ★ Å

Rammer:
 D2
 A2
 B3
 ★ Q

Rammer:
 D3
 B2
 D1
 ★ K

Løsning

| | | | |
|---|---|---|---|
| ★ | ★ | ★ | ★ |
| k | o | r | t |

Hovedbrud

I blå stue går 5 flere børn end i rød stue, hvor der er dobbelt så mange som i gul stue, der har 10 børn. Hvor mange børn er der i alt i børnehaven?

20
★ E

35
★ U

55
★ O